

Задача 1



Какие события относятся к Французской революции XVIII в.?

1	<input checked="" type="checkbox"/>	Принятие Декларации прав человека и гражданина
2	<input type="checkbox"/>	Легализация профсоюзов рабочих
3	<input checked="" type="checkbox"/>	Взятие Бастилии
4	<input type="checkbox"/>	Принятие Декларации независимости
5	<input checked="" type="checkbox"/>	Введение всеобщей воинской повинности

Задача 2

Какие из перечисленных положений составляли содержание Атлантической хартии 1941 г.:

1	<input checked="" type="checkbox"/>	Право наций на выбор своей формы правления
2	<input type="checkbox"/>	Установление контроля США над международной финансовой системой
3	<input type="checkbox"/>	Установление над СССР международной опеки
4	<input checked="" type="checkbox"/>	Свобода торговли
5	<input checked="" type="checkbox"/>	Глобальное экономическое сотрудничество

Задача 3

Укажите понятия, которые связаны с индуизмом:



1	<input checked="" type="checkbox"/>	дхарма
2	<input checked="" type="checkbox"/>	карма
3	<input type="checkbox"/>	закят
4	<input type="checkbox"/>	сангха
5	<input checked="" type="checkbox"/>	веды

Задача 4



В ходе Второй мировой войны событиями, произошедшими НЕ на европейском и североафриканском театрах военных были:

1	<input type="checkbox"/>	«Битва за Англию»
2	<input type="checkbox"/>	Сталинградская битва
3	<input checked="" type="checkbox"/>	битва у острова Мидуэй
4	<input type="checkbox"/>	«День Д» (высадка англо-американских войск в Нормандии)
5	<input checked="" type="checkbox"/>	битва при Марианских островах

Задача 5

Укажите деятелей Английской революции XVII в.

1	<input checked="" type="checkbox"/>	О. Кромвель
2	<input type="checkbox"/>	Дж. Ди
3	<input checked="" type="checkbox"/>	Дж. Мильтон
4	<input type="checkbox"/>	Р. Уолпол
5	<input checked="" type="checkbox"/>	Дж. Лильберн

Задача 6



Какие из перечисленных стран (целиком или частично) были в прошлом колониями Германии?

1	<input checked="" type="checkbox"/>	Намибия
2	<input type="checkbox"/>	Таиланд
3	<input type="checkbox"/>	Ирак
4	<input checked="" type="checkbox"/>	Камерун
5	<input checked="" type="checkbox"/>	Танзания

Задача 7



Укажите страны Европы, которые входят в блок НАТО:

1	<input type="checkbox"/>	Австрия
2	<input checked="" type="checkbox"/>	Франция
3	<input checked="" type="checkbox"/>	Румыния
4	<input checked="" type="checkbox"/>	Германия
5	<input type="checkbox"/>	Сербия

Задача 8



Кто из перечисленных ниже исторических персонажей НЕ были современниками событий, запечатлённых на картине А. - Ж. Гро «Наполеон возле больных чумой в Яффе»:

1	<input type="checkbox"/>	Горацио Нельсон
2	<input checked="" type="checkbox"/>	Абрам Петрович Ганнибал
3	<input checked="" type="checkbox"/>	Джонатан Свифт
4	<input type="checkbox"/>	Ф. Ф. Ушаков
5	<input checked="" type="checkbox"/>	Джеймс Кук

Задача 9



Кто из ниже перечисленных исторических деятелей и деятелей культуры похоронен в Пантеоне (Рим):

1	<input type="checkbox"/>	Леонардо да Винчи
2	<input checked="" type="checkbox"/>	Рафаэль
3	<input type="checkbox"/>	Лоренцо Медичи
4	<input checked="" type="checkbox"/>	Виктор Эммануил II
5	<input type="checkbox"/>	Микеланджело

Задача 10

Диадохами Александра Македонского были:

1	<input type="checkbox"/>	Аттал
2	<input checked="" type="checkbox"/>	Антигон I Одноглазый
3	<input checked="" type="checkbox"/>	Антипатр
4	<input type="checkbox"/>	Филипп III Арридей
5	<input checked="" type="checkbox"/>	Селевк

Задача 11

Расположите в хронологической последовательности события XIX века


1	пленение Наполеона III после битвы при Седане	<input type="text"/>
2	сражение под Балаклавой	<input type="text"/>
3	убийство императора Александра II	<input type="text"/>

4	Гражданская война в США	<input type="text"/>
5	Осада Плевны	<input type="text"/>

Ответ: 1 – 3, 2 – 1, 3 – 5, 4 – 2, 5 - 4

12. Задача 12





Расположите события в хронологической последовательности:

1	Казнь Людовика XVI	<input type="text"/>
2	Подписание Парижского мирного договора, завершившего Семилетнюю войну	<input type="text"/>
3		<input type="text"/>
4	Приход Наполеона к власти	<input type="text"/>
5	Прагматическая санкция германского императора Карла VI	<input type="text"/>

Ответ: 1 – 4, 2 – 2, 3 – 3, 4 – 5, 5 - 1

Задача 13

Установите соответствия между временем жизни деятелей культуры и искусства и ниже приведёнными историческими событиями:

1	<input type="text"/>	<p>Никола Пуссен</p> 
2	<input type="text"/>	<p>Микеланджело Буонарроти</p> 
3	<input type="text"/>	<p>Антуан Ватто</p> 
4	<input type="text"/>	<p>Вольтер</p> 

Возможные ответы

1	Правление Франциска I, короля Франции
2	Перенос Петром I столицы из Москвы в Санкт-Петербург
3	Воцарение Елизаветы Петровны
4	Коронация Людовика XIV, короля Франции

Ответ:

1 – Коронация Людовика XIV, короля Франции; 2 – Правление Франциска I, короля Франции; 3 – Перенос Петром I столицы из Москвы в Санкт-Петербург; 4 - Воцарение Елизаветы Петровны

Задача 14

Установите соответствия между датами и событиями в истории Великобритании XIX века.

1	Провозглашение королевы Виктории императрицей Индии	<input type="text"/>
2	Первая парламентская реформа	<input type="text"/>
3	Запрет работорговли	<input type="text"/>
4	Первая Всемирная промышленная выставка	<input type="text"/>

Возможные ответы

1	1851 г.
2	1807 г.
3	1876 г.
4	1832 г.

Ответ:

1 – 1876 г.; 2 - 1832 г.; 3 – 1807 г.; 4 – 1851 г.

Задача 15

Установите соответствия между событиями и историческими деятелями межвоенного периода (1920-1930):

1	Рурский кризис 1923 г.	<input type="text"/>
2	Мюнхенское соглашение 1838 г.	<input type="text"/>
3	Договор об отказе от войны в качестве орудия национальной политики 1928 г.	<input type="text"/>
4	Великая депрессия 1929-1933 гг.	<input type="text"/>

Возможные ответы



1	Г. Гувер
2	А. Бриан
3	Р. Пуанкаре
4	Э. Даладьё



Ответ:

1 – Р. Пуанкаре; 2 - Э. Даладьё; 3 – А. Бриан; 4 – Г. Гувер

Задача 16

Установите соответствия между изображениями памятников искусства и названием стиля:

1 <input type="text"/>	
2 <input type="text"/>	

3 <input type="text"/>	
4 <input type="text"/>	

Возможные ответы

1	Готика
2	Романский
3	Барокко
4	Классицизм

Ответ:

- 1 - Барокко
- 2 - Готика
- 3 - Классицизм
- 4 - Романский

Задача 17


Установите соответствия между ниже перечисленными открытиями и их авторами:

1. Открытие полония
2. Открытие технологии, применяемой для увеличения срока хранения пищевых (в основном - жидких) продуктов
3. Открытие мельчайших частиц – квантов и фотонов
4. Открытие эритроцитов


Антони ван Левенгук



Пьер Кюри и Мария Склодовская-Кюри



Луи Пастер



Макс Планк



Ответ: 1 – 4, 2 – 1, 3 – 2, 4 - 3

Задача 18



Перед Вами Раздел 1 федерального закона одного государства. «Да будет постановлено, что любой человек, являющийся главой семьи, который прибыл в страну в возрасте 21 года и является гражданином «» ... и который никогда не поднимал оружия против правительства «» и не оказывал помощи его врагам, получает начиная с 1 января 1863 г. право вступить во владение одной четвертью секции или меньше общественной земли, не находящейся в чьем-либо владении, на которую указанное лицо может заполнить требование на покупку ... и которая должна представлять собой единый участок земли и в соответствии с законами о государственной земле быть размежеванной». О каком государстве идет речь в тексте закона?

Ответ запишите в именительном падеже.

Ответ

1 – США; 2 – США

или

1 – Соединенные Штаты Америки; 2 - Соединенные Штаты Америки

Задача 19



Действие романа-антиутопии Дж. Оруэлла «1984» разворачивается в Лондоне, превратившемся к концу XX в. в один из городов социалистической сверхдержавы Океания. Направляясь на свидание, главный герой оказывается на «площади Победы» возле «громадной желобчатой колонны, с вершины которой статуя Старшего Брата смотрела на юг небосклона, туда, где в битве за Взлетную полосу I он разгромил евразийскую авиацию». Британский военачальник, реальный памятник которому послужил прототипом этого сооружения, погиб в сражении

при в году.

Ответ:

1-Трафальгар;2-1805

Задача 20



По заказу папы Юлия II Рафаэль расписывает папский рабочий кабинет - Станца дела Сеньятура. Фрески иллюстрируют основные виды духовной деятельности человека, в том числе на этой фреске, аллегорически изображены поэзия и музыка. Назовите гору, которая упоминается в культуре как символическое местообитание поэтов и других деятелей искусства. Именно она имя фреске Рафаэля, названной «»

Ответ: Парнас

Задача 21




На картине Поля Делароша изображен эпизод из истории Английской революции (Английской гражданской войны) XVII века. Художник передал исторический эпизод как драму: будущий лорд-протектор «» (указать полностью имя и фамилию в именительном падеже) у гроба казнённого его главного противника - «» (указать полностью имя в именительном падеже)

Система оценивания

Ответ:

1-Оливер Кромвель;2- Карл I Стюарт

Задача 22



После войны 1812 года Казанский собор (Собор Казанской иконы Божией Матери) в г. Санкт-Петербурге, построенный архитектором «» (указать полностью имя и фамилию архитектора в именительном падеже) приобрёл значение памятника русской военной славы и стал местом погребения «» (указать полностью имя и

фамилию полководца *в именительном падеже*) - главнокомандующего русской армией в этой войне.

Ответ:

1– Андрей Воронихин;2– Михаил Кутузов

Задача 23



На этой французской карикатуре показан германский канцлер , председательствующий на конференции 1884 г., на которой были приняты решения по колониальному разделу Африки между европейскими державами. Спустя 15 лет только одно африканское государство – – смогло отстоять свою независимость.

Ответы запишите в именительном падеже, например: Ганнибал, Германия.

Система оценивания

Ответ:

1- Бисмарк;2- Эфиопия

Задача 24



мирный договор был заключен по итогам русско-турецкой войны 1877-1878 гг. Однако его условия вызвали негативную реакцию великих держав, опасавшихся возросшего влияния Российской империи на Балканах. Особенно сильным было противодействие Австро-Венгрии и Великобритании. России пришлось пойти на пересмотр договора, и он фактически был заменен «», подписанным 1 июня 1878 г.

Ответы запишите в именительном падеже.

Ответ:

1- Сан-Стефанский мирный договор;2- Берлинский трактат
или
1- Сан-Стефанский;2- Берлинский